



AĞRI İL MİLLİ EĞİTİM MÜDÜRLÜĞÜ

KASIM 2016

8.SINIF

KAZANIM DEĞERLENDİRME SINAVI

1

Testlerimiz DOĞUBAYAZIT YATILI BÖLGE ORTAOKULU bünyesinde hazırlanmıştır.

Türkçe	Şehriban GÜNCE
Matematik	Gül ŞENEL – Sibel TÜRKER
Din Kültürü ve Ahlak Bilgisi	Engin ATDEMİR
Fen Bilimleri	Bekir GENÇER – Filiz DURSUN
İnkılap Tarihi	Erkan YAŞAR
İngilizce	Taşkın BAYRAM

*“Kazanım testlerimiz Doğubayazıt İli **Yatılı Bölge Ortaokulu** Bünyesinde hazırlanmıştır...*

Kazanım testlerimize verdiği destekten ötürü başta okul müdürümüz Sayın Servet ŞAHİN olmak üzere emeği geçen bütün arkadaşlara teşekkürü borç biliriz.”

Yatılı Bölge Ortaokulu Test Ekibi.

TÜRKÇE TESTİ

1) 'Arkadaşımla görüşmeyi çok istedim.'
Cümlesindeki altı çizili sözcükte olduğu gibi isim-fiiller bazen isim çekim eklerini alabilirler. **Aşağıdaki cümlelerin hangisinde buna benzer bir kullanım vardır?**

- A) Seninle konuşmak iyi geldi.
- B) Yanımdan geçerken sert bir bakış attı.
- C) Bu konudaki görüşünü merak ediyorum.
- D) Parkta külahlı dondurma yedim.

2) **Aşağıdaki cümlelerin hangisinde somut anlamlı bir sözcük soyut anlamda kullanılmıştır?**

- A) Geleceği parlak bir çocuğa benziyor.
- B) Dün gece eve gelmeyince epey korktum.
- C) Yoğun sisten dolayı göz gözü görmüyordu.
- D) Büyüklerimize saygı göstermeliyiz.

3) **Sözcüğün gerçek anlamından uzak kullanılmasına mecaz anlam denir. Aşağıdaki cümlelerin hangisinde mecaz anlamlı bir sözcük kullanılmıştır?**

- A) Sözlerim ağırdır dokunur kalbe.
- B) Bulutlar dayansın diye adını dağlara verdim.
- C) Türkü olmuşsun dünüme, bugünüme.
- D) Kardeşçe yaşamalıyız bu topraklarda.

4) **Aşağıdaki sözcük gruplarından hangisinin iki sözcük arasındaki ilişkisi diğerlerinden farklıdır?**

- A) Defter - Ağaç
- B) Halı - Yün
- C) Yumurta - Tavuk
- D) Cam - Toprak



5) Aşağıdakilerin hangisinde sözcük dizisini oluşturan sözcükler arasında diğerlerinden farklı bir ilişki söz konusudur?

- A) Gül , Çiçek , Bitki , Varlık
- B) Fıkra , Gazete , Basın , Medya
- C) Ali , İnsan , Canlı , Varlık
- D) Cümle , Kelime , Hece , Harf

6) Aşağıdaki ikilemelerden hangisi cümlede tek başına kullanılamaz?

- A) Eften Püften
- B) Saçma Sapan
- C) İleri Geri
- D) Ses Seda

7) Aşağıdakilerden hangisi tanım cümlesi değildir?

- A) Kültür ; bir toplumun maddi ve manevi değerlerinin tümüdür.
- B) Dil insanlar arasındaki iletişimi sağlayan bir vasıta.
- C) Şiir ; duygu ve düşünceyi değil aynı zamanda kelimeler arasındaki o ilişkiyi de en güzel şekilde ifade eder.
- D) Günlük ; bir kişinin yaşadıklarını tarih belirterek günü gününe yazmasıdır.

8) Bir şeyi olduğundan daha önemli , daha büyük veya daha çok göstermeye abartma denir.Aşağıdaki cümlelerin hangisinde abartma anlamı vardır?

- A) Bir of çeksem karşıki dağlar yıkılır.
- B) Dünya kadar işim var.
- C) Annem olanları duyunca kıyameti kopardı.
- D) Dolmuşu kaçırdım eve koş koş gittim.

9) 'Bir yazarın anlatımında kullandığı dil,söyleyiş,anlatım ve ahenk benim için elbette önemlidir. Ama ben yazarın kendi kendisini eleştirmesine de bakarım.' **diyeneleştirmen** aşağıdaki kavramlardan hangisini ifade etmiştir?

- A) Nesnellik
- B) Dil
- C) Tema
- D) Öz eleştiri

10) Aşağıdaki cümlelerin hangisinde sitem söz konusudur?

- A) Kirayı rahat ödemek için köye taşındı.
- B) Eğer sözümü dinleseydin şu an bu halde olmazdın.
- C) Neden beni her görüşünde görmezden geliyorsun.
- D) Kar yağdığından ilçenin tüm yollar kapandı.

11) 'Yaz tatilinde dedemin evine de gittim.' Bu cümlenin örtülü anlamından **çıkarılabilecek sonuç aşağıdakilerden hangisidir?**

- A) Yaz tatilinde sadece dedeme gittim.
- B) Yaz tatilinde dedemden başka kişilerinde evine gittim.
- C) Dedeme ilk kez yaz tatilinde gittim.
- D) Dedeme yaz tatilinde son kez gittim.

12) Karadeniz hep görmek istediğim yerlerden olmuştur. Dar ve derin vadilerin içinden akan dereleriyle, bin bir renkteki çiçekleriyle büyüleyici bir güzelliğe sahip. Su kenarlarına kurulmuş küçük çatılı ahşap evler adeta kendine has bir özellik oluşturmuş durumda. **Bu parçada kullanılan anlatım tekniği aşağıdakilerden hangisidir?**

- A) Öyküleme
- B) Betimleme
- C) Açıklayıcı
- D) Eleştiri

13) **Aşağıdaki cümlelerden hangisinde farklı bir fiilimsi kullanılmıştır?**

- A) Sen gülünce güller açar gül pembe.
- B) Sora sora Bağdat bulunur.
- C) Sınıftan ağlayarak çıktı.
- D) Dönülmez akşamın ufkundayız vakit çok geç.

14) **Aşağıdaki fiilimsi eşleştirmelerinden hangisi yanlıştır?**

- A) Koştukça = Zarf-fiil
- B) Çakmak = İsim-fiil
- C) Sevilesi = Sıfat-fiil
- D) Alır almaz = Zarf-fiil

15) **Aşağıdaki sözcüklerden hangisinde imla hatası vardır?**

- A) Emel Hanım yarın komşularıyla gün yapacak.
- B) Olanları duyunca Dünyam başıma yıkıldı.
- C) Dün gece Orhan Pamuk'un eserini okuyordu.
- D) Öğretmen VI 'nci üniteden sorumlu olduğumuzu söyledi.

16) Ses düşmesine yada türemesine uğramış birleşik sözcükler bitişik yazılır. **Aşağıdaki sözcüklerden hangisi bu kullanıma uygun yazılmamıştır?**

- A) Benden özür dileyince affettim onu.
- B) Cumartesi günü pikniğe gideceğiz.
- C) Gelmeyeceğini his edince hüngür hüngür ağlamaya başladım.
- D) Okullar pazartesi açılacak.

17) **Aşağıdakilerin hangisinde kısaltmaların yazımıyla ilgili bir yanlışlık yapılmıştır?**

- A) Bu oyuncumuz TRT'de radyo spikerliği yaptı.
- B) Bu yıl ODTÜ'yü kazanmayı hedefliyor.
- C) Yeni sınav sistemiyle ilgili MEB'nin kararı bekleniyor.
- D) Askerliğini KKTC'de yapmış.

18) **Virgül sıralı cümleleri birbirinden ayırmak için kullanılır. Aşağıdakilerin hangisinde böyle bir kullanım vardır?**

- A) En sevdiğim arkadaşlarım; Ali, Ayşe , Mehmet ve Fatma idi.
- B) Doğubayazıt'a , doğduğum şehre , gitmiş.
- C) Şiir, duygu ve düşüncelerin dizelere yansımaları olarak kabul edilebilir.
- D) Yağız ile ,en sevdiğim arkadaşımınla, halı sahada maç yaptık.

19) **Aşağıdaki cümlelerin hangisinde nesne yoktur?**

- A) Yazarın yeni çıkan romanını bir solukta bitirdim.
- B) Öğrencilik yıllarımdaki anılarımı unutamam.
- C) Masadaki kurabiyeleri yemişti.
- D) Dün ilk uçakla Ankara'ya indi.

20) **Aşağıdaki cümlelerden hangisi yalnızca özne ve yüklemden oluşmaktadır?**

- A) Manavda taze meyveler vardı.
- B) Bu derste başarılı olacağını sanmıştım.
- C) Beni bu görüşleri her zaman etkilemiştir.
- D) Hoşgörülük, her insanda nadir bulunan özelliklerdendir.



MATEMATİK TESTİ

1. 16^4 sayısının çeyreği aşağıdakilerden hangisine eşittir?

- A) 4^4 B) 16^3
C) 2^{14} D) 2^8

2. $507,16 = (5 \cdot 10^a) + (7 \cdot 10^b) + (1 \cdot 10^c) + (6 \cdot 10^d)$ olduğuna göre, $a+b+c+d$ kaçtır?

- A) -1 B) 0
C) 1 D) 2

3. $\sqrt{125}$ hangi ardışık iki tam sayı arasındadır?

- A) 8 ile 9 B) 9 ile 10
C) 10 ile 11 D) 11 ile 12

4. $2^{12} = 4^x = 8^y = 16^z$ olduğuna göre, $x+y+z$ kaçta eşittir?

- A) 7 B) 10
C) 13 D) 16

5. $\sqrt{15}$ π
 $0,6$ $-0,12$ $-\sqrt{9}$

Yukarıda verilenlerden kaç tanesi irrasyonel sayıdır?

- A) 2 B) 3
C) 4 D) 5

6. $(0,5)^5 = 2^a$
 $(0,25)^4 = 2^b$

Olduđuna göre,

a.b nin deđeri kaa eřittir?

A) – 40

B) -32

C) 32

D) 40

7. a ve b tam sayılardır. $a^b = 81$ olduđuna göre, a+b ařađdakilerden hangisi olamaz?

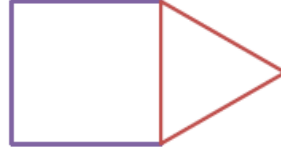
A) 7

B) 11

C) 18

D) 81

8.



Yandaki birer kenarları ortak olan kare ve eřkenar üçğenden oluřan řekilde, karenin

alanı 144 m^2 'dir. Buna göre, verilen řeklin çevre uzunluđu ka metredir?

A) 48

B) 60

C) 72

D) 84

9. $0,00004903 \cdot 10^{-7}$ sayısının bilimsel gösterimi ařađdakilerden hangisidir?

A) $49,03 \cdot 10^{-13}$

B) $0,4903 \cdot 10^{-11}$

C) $4,903 \cdot 10^{-12}$

D) $4903 \cdot 10^{-8}$

10. Alanı 30 cm^2 olan bir dikdörtgenin kenar uzunlukları ařađdakilerden hangisi olamaz?

A) $2\sqrt{3} \cdot 5\sqrt{3}$

B) $6\sqrt{2} \cdot 5\sqrt{2}$

C) $2\sqrt{5} \cdot 3\sqrt{5}$

D) $5\sqrt{2} \cdot 3\sqrt{2}$

11. 24 sayısının tüm çarpanlarının ve bölenlerinin farkı kaçtır?

- A. 0
- B. 60
- C. 120
- D. 240

12. Asal çarpanlarının çarpımı şeklinde yazılmış hali $3^2 \cdot 5^3$ olan sayı aşağıdakilerden hangisidir?

- A. 131
- B. 132
- C. 133
- D. 134

13. 6 ve 15 litrelik kovalar ile bir depo tamamen dolacak ve hiç taşmayacak şekilde dolduruluyor. İki kova ile eşit miktarda su depoya konulduğuna göre depo kaç litre su alabilir? (Doldurma işlemi yapılırken kovalarda hiç boş yer kalmayacaktır.)

- A. 30
- B. 60
- C. 90
- D. 100

14. Eni 200 m, boyu 240 m olan dikdörtgen biçimindeki bir arazi eşit büyüklükte kare şeklinde parsellere bölünecektir. Buna göre, oluşturulacak parsellerin bir kenarının uzunluğu en fazla kaç m olabilir?

- A. 30
- B. 40
- C. 50
- D. 60

15. Boyutları 2,3,4cm olan dikdörtgenler prizması şeklindeki kutuların en az kaç tanesi bir küp oluşturabilir?

- A. 62
- B. 65
- C. 72
- D. 75

16. İki doktordan biri 6 günde bir, diğeri 9 günde bir nöbet tutmaktadırlar. İkisi birlikte ilk nöbetlerini pazartesi günü tuttuklarına göre , tekrar birlikte hangi gün nöbet tutarlar?

- A)Perşembe B)Cuma
- C)Cumartesi D)Pazar

17. Ardışık iki doğal sayının EBOB'u ile EKOK'unun toplamı 183'dür.. Buna göre büyük sayı kaçtır?

- A) 8 B) 9 C) 13 D)14

18. A ile B aralarında asal sayılardır. $EBOB(A,B).EKOK(A,B)=195$ olduğuna göre A.B aşağıdakilerden hangisine eşittir?

- A.1 B.195 C.390 D.400

19. A. 5 ile 15 aralarında asaldır.

- E. 7 ile 91 aralarında asaldır.
- F. 5 ile 6 aralarında asal değildir.
- G. 9 ile 14 aralarında asaldır.

Yukarıdaki ifadelerden hangileri doğrudur?

- A. A ve B
- B. Yalnız C
- C. Yalnız D
- D. Hiçbiri

20. Aşağıdaki sayı çiftlerinin hangisinin EBOB'u 1, EKOK'u ise çarpımıdır?

- A. 50,54 B. 75,80
- B. 90,102 D. 60,63

DİN KÜLTÜRÜ VE AHLAK BİLGİSİ TESTİ

1) “Gökleri yedi kat yaratan O’dur.Rahmanın yaratmasında bir düzensizlik göremezsin.Gözünü çevir de bak, bir bozukluk görüyorsun?”
(MÜLK SURESİ/3)

Yukarıda verilen ayet aşağıdakilerden hangisine örnek verilirse daha uygun olur?

- A)Allah’ın varlığı ve birliğine
- B)Allah’ın insana verdiği değere
- C)Allah’ın her şeyi bir ölçüye göre yarattığına
- D)Allah’ın yaratıcı gücüne

2)“Şüphesiz biz ona (doğru) yolu gösterdik. İster şükredici olsun, ister nankör”(İnsan Suresi/3)

Verilen ayette seçeneklerin hangisi vurgulanmıştır?

- A)İnsanın irade sahibi olduğu
- B)İnsanın ölümlü bir varlık olduğu
- C)İşlerin daima olacağına varacağına
- D)Kader ve kaza inancı

3)Bir işi yaparken elinden gelen gayreti göstermekle birlikte kalben Allah’a bağlanıp O’ na güvenmek, sonucunu ondan beklemek demektir.

Yukarıda tanımlanan kavram aşağıdakilerden hangisidir?

- A)Tefekkür
- B)Tevekkül
- C)Kaza
- D)Kader

4)**Canlıların yapısı, beslenmesi ve üremesi ile ilgili yasalara ne denir?**

- A)Fiziksel yasa
- B)Toplumsal yasa
- C)Biyolojik yasa
- D)Kimyasal yasa

5-) **Kadere ve kazaya iman eden bir insan aşağıdaki davranışlardan hangisini yapmaz?**

A) Her şeyin Allah'ın bilgisi çerçevesinde olduğunu bilir

B) Allah'ın her şeyi bir düzen içinde yarattığını bilir.

C) Allah tarafından belirlenmiş bir ömrü olduğunu bilir

D) Çalışmasa da, rızkını Allah'ın mutlaka vereceğini bilir.

“Gece ve gündüzün peş peşe gelmesinde, Allah'ın göklerde ve yerde yarattığı her şeyde, Allah'a karşı sorumluluk bilinci taşıyan bir toplum için ibretler vardır.”

6)-Yukarıdaki ayette **asıl** olarak anlatılmak istenilen aşağıdakilerden hangisidir?

A) Gece ve gündüz peş peşe gelmektedir

B) Allah gökleri ve yeri yaratmıştır

C) Gece ve gündüzün oluşumu biraz karışıktır

D) İnsan Allah'ın yarattıklarını düşünüp ibret almalıdır

7)“Güneş ve Ay bir hesaba göre hareket etmektedir” Ayeti hangi tür yasa ile alakalıdır?

A)Biyolojik Yasalar Yasaları

B)Uzay

C)Evrensel Yasalar Yasalar

D)Fiziksel

8)Aşağıdakilerden hangisi insanın iradesi dışında zorunlu olarak gerçekleşen eylemlerine bir örnek **olamaz**?

A)Anne babasının kim olacağına karar verebilmesi.

B)Hangi ırktan dünyaya geleceğini tercih etmesi.

C)Ten rengine karar verebilmesi.

D)Hangi mahallede oturacağına karar verebilmesi.

9)Aşağıdakilerden hangisi Allah (c.c.)'in her şeyi bir ölçüye göre yarattığına **yanlış** örnek vermiştir?

A)Gece ve gündüzün oluşumu.

B)Mevsimlerin oluşumu.

C)Güneş ve Dünya'nın hareketi.

D)Dağın yamacına ev ev yapan kişinin çığdan zarar görmesi.

10)''Onun varlığının belgelerinden biri de denizde dağlar gibi yüzen gemilerdir.''

Yukarıdaki ayette aşağıdaki yasalardan hangisine işaret edilmiştir?

- A)Evrensel Yasalar B)Biyolojik Yasalar
C)Fiziksel Yasalar D)Toplumsal Yasalar

11)''Yeri döşeyen, onda oturaklı dağlar ve ırmaklar yaratan ve oralarda bütün meyvelerden çiftler çiftler yaratan O'dur.''(Rad/3)

Bu ayet ile ilgili;

- I)Allah'ın her şeyi bir düzen içinde yarattığı
II)Yaratılanların zaman içinde değiştiği
III)Allah'ın insanlara merhamet ettiği

Yargılarından hangisine yada hangilerine ulaşılabilir?

- A)YALNIZ I B)YALNIZ II
C)II VE III D)I,II,III

12)Atmosfer tabakası daha ince olsaydı, atmosferde yanarak parçalanan meteorlar, büyük kitleler halinde dünyamıza düşer ve bize zarar verebilirdi.

Yukarıda verilen bilgilere bilgilere verilebilecek en uygun başlık aşağıdakilerden hangisidir?

- A)İnsan iradesi
B)Emek ve Rızık
C) Denge ve Düzen
D)Dünya'nın Gücü

13-)''Ey insanlar! Biz seni basit bir sudan yaratmadık mı? İşte o suyu belli bir süreyle kadar sağlam bir yere yerleştirdik, sonra da ona ölçülü bir biçim verdik.''(Mürselat /20-23)

Yukarıdaki ayette Allah'ın evrene koyduğu yasalardan hangisine vurgu yapılmaktadır?

- A)Fiziksel Yasalar B)Kimyasal Yasalar
C)Biyolojik Yasalar D)Toplumsal Yasalar

14-) Aşağıdakilerden hangisi doğru tevekkül anlayışına örnek olabilir?

A)Ertesi gün sınavı olan Murat'ın gece uyumadan Allah'a dua etmesinin yeterli olacağını düşünmesi.

B)Tarlasına buğday eken Ali'nin rızkını Allah'tan geldiğini düşünerek sadece yağmurun yağmasını beklemesi.

C)Kanser hastası olan Mehmet'in şifanın Allah'tan olduğunu düşünerek doktora gitmemesi.

D)Hafta sonu çok önemli maçı olan Tekin'in maça hazırlanıp Allah'tan yardım dilemesi.

15-)“Komşusu aç iken tok yatan bizden değildir.”(Hz. Muhammed)

Efendimiz yukarıdaki hadisi ile neye dikkat çekmiştir?

- A)Cesur olmaya B)Sabırlı olmaya
C)Paylaşma ve yardımlaşmaya D)Bencil olmaya

- I- Yerin ve göğün yaratılması.
II- Ahlak kurallarına uymak.
III- Her canlının zamanı gelince ölmesi
IV-

16-)Yukarıda sayılan yasalar sırasıyla hangisindedir?

I	II	III
A) Biyolojik	Fiziksel	Bireysel
B) Kimyasal	Toplumsal	Biyolojik
C) Fiziksel	Toplumsal	Biyolojik
D) Bireysel	Toplumsal	Fiziksel

17-) Allahü lâ ilâhe illâ hüvel hayyül kayyûm. Lâ te'huzühû sinetün ve lâ nevm. Lehû mâ fîs-semâvâti vemâ fil erd.

Yukarıdaki noktalı yere gelmesi gereken uygun ifade aşağıdakilerden hangisidir?

- A) ya'lemü mâ beyne eydîhim vemâ
B) Velâ yeûdühü hıfzuhumâ ve hüvel
C) Lehû mâ fîs-semâvâti vemâ fil erd.
D) Menzellezî yeşfeu indehû illâ biiznihi.

18-)Ayete'l Kürsi ile ilgili aşağıda verilen bilgilerden hangisi yanlıştır?

A-) Ayete'l Kürsi Bakara suresinin 255. ayetidir.

B-) İçinde “kursi” kelimesi geçtiği için bu ayete “Ayete'l-Kürsi” denilmiştir.

C-) Kürsi, Allah'ın sonsuz gücü, kudreti ve hükümlerine gelir.

D-)İbadetlerin önemine dikket çekmektedir

19)Aşağıdaki ifadelerden hangisi yanlıştır?

A)Canlıların sahip olduğu yaşam süresine ömür denir.

B)Yüce Allah'ın yaşamlarını sürdürebilmesi için canlılara verdiği her şeye rızık denir.

C)Kişinin en az iki seçenektan birini seçebilme gücüne kaza denir.

D)''Akacak kan damarda durmaz.'' İfadesi yanlış bir kader inancıdır.

20) Peygamber Efendimiz bir hadisinde ''Kim kardeşinin ihtiyacını giderirse,Allah da onun ihtiyacını giderir.'' diye buyurmuştur.

Yukarıdaki hadisinde peygamber efendimizin hangi yönü üzerinde durulmaktadır?

A)Merhametli oluşu

B)Paylaşma ve yardımlaşmaya verdiği önem

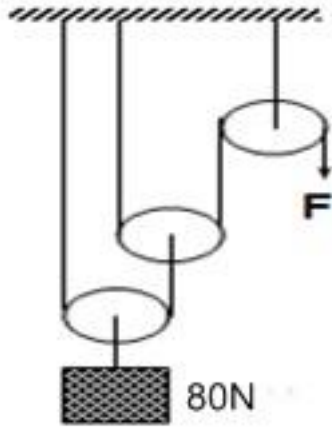
C)Adaletli oluşu

D)Güvenilir oluşu



FEN BİLİMLERİ TESTİ

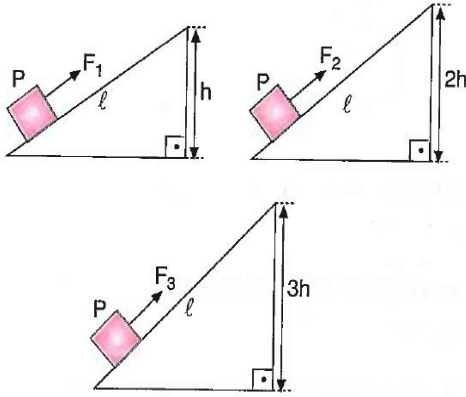
1) Aşağıdaki makara düzeneğinde,



F kuvveti kaç N'dur ?

- A) 10
- B) 20
- C) 30
- D) 40

2)



Şekilde görülen P yükü farklı eğik düzlemlerde şekildeki gibi taşıyor. Buna göre;

F₁ , F₂ , F₃ kuvvetlerini büyükten küçüğe doğru sıralayınız?

- A) $F_1 > F_2 > F_3$
- B) $F_2 > F_3 > F_1$
- C) $F_3 > F_2 > F_1$
- D) $F_3 > F_1 > F_2$


3) Basit makineler ile ilgili;

- 1) İşten kazanç sağlarlar
- 2) Kuvvetten kazanç sağlarlar
- 3) İşimizi kolaylaştırırlar.

Yukarıdaki yargılardan hangileri doğrudur?

- A) 1 – 3
- B) 2 – 3
- C) Hepsi
- D) 1-2

4) Aşağıdaki düzenekle ilgili,




A dişlisinin yarı çapı 4 cm , B dişlisinin yarıçapı 8 cm'dir.

A dişlisi ok yönünde 16 tur attığında B dişlisinin hareket yönü ve tur sayısı kaç olur ?

	Hareket Yönü	Tur Sayısı
A)	1	16
B)	1	8
C)	2	16
D)	2	8

5) Aşağıdaki makara düzeneği ile ilgili,



- B makarası sabit makaradır.
- R makarası hareketli makaradır.
- Kuvvetten kayıp vardır.
- İş yapma kolaylığı sağlar.

İfadelerinden kaç tanesi doğrudur?

- A) 1
- B) 2
- C) 3
- D) 4

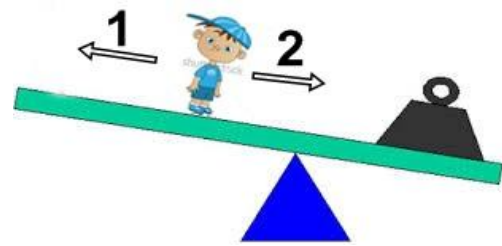
6)



Yukarıdaki basit makinelerden hangileri kuvvetin ortada olduğu kaldıraçlara örnektir?

- A) Yalnız 1
- B) 1-2-3
- C) 1-2-4
- D) Yalnız 3

7) Ahmet şekildeki yükü dengelemek istiyor.



Bunun için ne yapması gerekir?

- A) 2 yönüne doğru destek noktasına yaklaşınca
- B) 2 yönüne doğru ilerleyip yükün yanına gidince
- C) 1 yönüne doğru bir miktar ilerleyince
- D) Olduğu yerde daha fazla kaldığında

8) Aşağıdakilerden hangisi çıkıık değildir?

- A) Torna vida – Direksiyon
- B) Kapı kolu kilit sistemi
- C) Kuyu suyu düzeneđi
- D) Pense - Makas

9) Bir işçi 700 N'luk bir yükü hareketli makara kullanarak yerden inşaatın 5.katına çıkarmak istiyor. Buna göre işçinin yüke uyguladığı kuvvetin değeri hangisi olursa işçi amacına ulaşamaz?

- A) 300 N
- B) 350 N
- C) 400 N
- D) 450 N

10)



Şekildeki bisiklette hangi basit makine kullanılmamıştır?

- A) Çıkıık
- B) Kaldıraç
- C) Dişli Çark
- D) Eğik Düzlem

11)1.DNA dizilimindeki nükleotidlerin sayısı

2.DNA dizilimindeki nükleotidlerin çeşidi

3.DNA dizilimindeki nükleotidlerin sırası

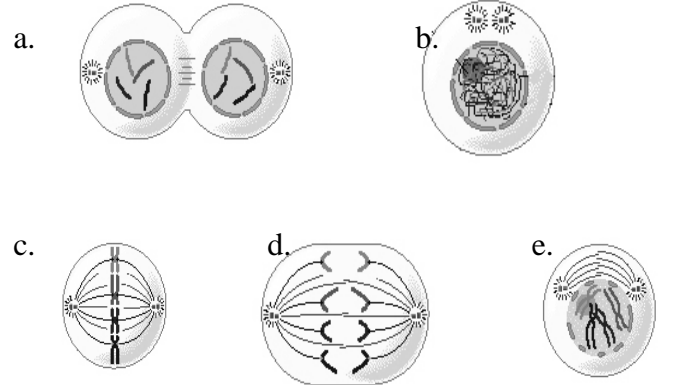
Canlıyı oluşturan DNA ların birbirinden farklı olmasının sebebi yukarıdakilerden hangileridir?

- A) 1-2
- B) B)1-2-3
- C) C)Yalnız 3
- D) D)Yalnız 2

12)Aşağıdaki hücrelerden hangisi mitoz bölünme geçirmez?

- A)Akyuvar hücresi
- B) Karaciğer hücresi
- C)Kemik hücresi
- D)Retina hücresi

13)



Yukarıdaki evrelerin doğru sıralaması aşağıdakilerden hangisi gibi olmalıdır?

- A) b e c d a
- B) c b d a e
- C) e b d c a
- D) a d c b e

14) () Kromozom sayısı ile gelişmişlik arasında bir ilişki yoktur

() Mayoz bölünmede tür içi kromozom sayısı yarıya iner.

() Döllenme olayı yumurta kanalında gerçekleşir.

() Parça değişimi olayı canlı çeşitliliğini sağlar.

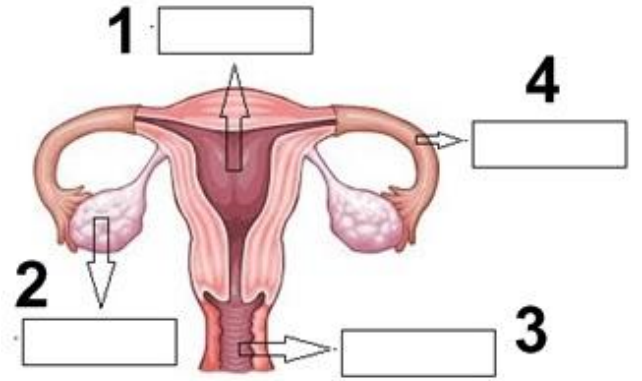
Yukarıdaki öncüller için doğru yanlış sıralaması aşağıdakilerden hangisi gibi olmalıdır?

- A) D D D Y
- B) Y D Y D
- C) D Y D D
- D) Y Y Y Y

15) - Kalıtımda görevli olan molekülleri küçükten büyüğe doğru sırası nasıldır?

- A) Hücre- Çekirdek- Nükleotit- Gen- DNA- Kromozom
- B) Kromozom- DNA- Çekirdek- Gen- Nükleotit- Hücre
- C) Hücre- Çekirdek- DNA- Gen- Nükleotit- Kromozom
- D) Nükleotit- Gen- DNA- Kromozom- Çekirdek- Hücre

16)



Yukarıda numaralandırılan yerlere sırasıyla aşağıdakilerden hangisi gelmelidir?

- A) Yumurtalık-döl yatağı -yumurta kanalı-vajina
- B) Vajina –yumurta kanalı-döl yatağı –yumurtalık
- C) Döl yatağı –yumurtalık –vajina-yumurta kanalı
- D) Döl yatağı-yumurtalık-yumurta kanalı –vajina

17) . I. Sperm hücreleri,erkek üreme organlarından

.....tarafından üretilen

üreme hücreleridir.II. Yumurta hücreleri,dişi üreme organlarından

.....tarafından üretilen üreme hücreleridir.

Yukarıda verilen cümlelerde,boş bırakılan yerlere sırasıyla aşağıdakilerden hangisi gelmelidir?

- A) penis –döl yatağı
- B) sperm kanalı- döl yatağı
- C) testisler- yumurtalıklar
- D) testis – yumurta kanalı



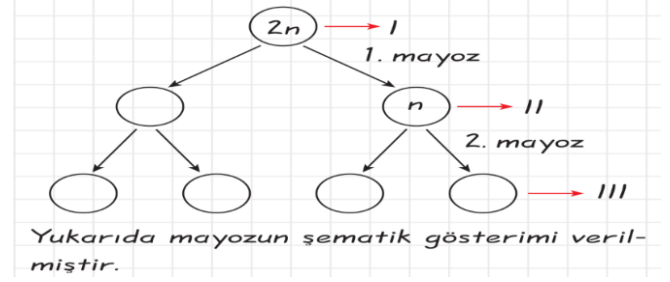
18) Yukarıdaki şemada 1, 2 ve 3 numaralı yerlere hangi olayları yazmalıdır?

- A) Mitoz Döllenme Mayoz
 B) Mayoz Mitoz Döllenme
 C) Mayoz Döllenme Mitoz
 D) Mitoz Mayoz Döllenme

19) . $2n$ kromozomlu bir hücre arka arkaya 3 mitoz 1 mayoz geçirdiğinde kaç kromozomlu kaç hücre oluşur?

- A) n kromozomlu 16 hücre
 B) n kromozomlu 32 hücre
 C) $2n$ kromozomlu 16 hücre
 D) $2n$ kromozomlu 32 hücre

20.



Bu şemaya göre aşağıdakilerden hangisi yanlıştır?

- A) Eşey ana hücrelerinde gerçekleşir.
 B) 1. Mayoz sonunda kromozom sayısı yarıya iner.
 C) I. Ve II. Hücre kalıtsal olarak birbirinden farklıdır.
 D) Parça değişimi mayoz 2 evresinde gerçekleşir.

İNKILAP TARİHİ VE ATATÜRKÇÜLÜK

Fransız ihtilalinin etkisi ve dış devletlerin kışkırtmasıyla 19.yy. de Balkanlarda pek çok isyan çıkmıştır. Osmanlı devleti parçalanmayla karşı karşıya kalmıştır. Bunun üzerine aydınlar devleti içinde bulunduğu durumdan kurtarmak için bazı fikir akımları ileri sürmüşlerdir.

1)Bu akımlardan hangisi devletin kurtuluşunun Türkler’i bir arada tutmakla mümkün olacağını savunmuştur?

- A) Türkçülük B)) Osmanlıcılık
C) İslamcılık D) Batıcılık

“Biz hedefimizi belirlemeden genel seferberlik ilan ettik, bu çok tehlikelidir; çünkü başımızı bir tarafa mı birçok tarafa mı vuracağız? Belli değildir. Ben Almanların bu savaşta galip geleceklerine kesinlikle inanmıyorum”.

2)Atatürk’ün yukarıdaki sözünden yola çıkarak hangisi söylenemez?

- A) M. Kemal ileri görüşlü bir kişiliğe sahiptir.
B) Osmanlı Devleti I.Dünya Savaşı’na plan yapmadan girmiştir.
C) Atatürk Almanlara güvenmemektedir.
D) Atatürk genel seferberlik ilan etmeyi hiçbir zaman uygun bulmamıştır.

3)Osmanlı Devleti Birinci Dünya Savaşı’nda aşağıdaki cephelerden hangisini müttefiklerine yardım amacıyla açmıştır?

- A)Suriye Cephesi
B)Kanal Cephesi
C)Çanakkale Cephesi
D)Makedonya Cephesi

“Mondros mütarekesinin ardından ordunun terhisi istendi; ama ben Doğu Anadolu’da emrimde bulunan 15.kolorduyu dağıtmadım. Doğu Anadolu Müdafaa Hukuk Cemiyeti olarak bölgede bir kongredüzenleyecektik ve M. Kemal Paşayı da davet ettik.

Aynı tarihte İstanbul hükümetinin, M. Kemal’in ve bizim çalışmalarımızdan rahatsızlığı iyice su yüzüne çıktı. M. Kemal’in Erzurum’a gelişinden birkaç gün sonra İstanbul’a geri dönmesi istendi.

Ancak İstanbul hükümeti onu görevden aldığı duyurmadan M. Kemal istifasını bildirdi.”

(Kazım Karabekir)

4)Yukarıda Kazım Karabekir’in anlattıklarından yola çıkarak hangisi söylenemez?

- A) K.Karabekir örgütleyici bir rol üstlenmiştir
B) M. Kemal padişahın isteği ile kongreye katıldı.
C) Halkın ve ordunun M. Kemal’e güveni tamdır.
D) K.Karabekir Mondros Ateşkesi’ne

uymamıştır.

M. Kemal'in doğup büyüdüğü ortam olan Selanik şehri; coğrafi konum, ekonomik, sosyal, kültürel ve özellikle de eğitim sistemi açısından değerlendirilir.

5) Buna göre aşağıda Selanik şehri ile ilgili verilen özelliklerden hangisi yanlış bir değerlendirmedir?

- A)) İnanç birliğini sağlamış bir şehirdi.
- B) İşlek bir liman ile Üsküp, Belgrat ve İstanbul hattından geçen bir demiryolu ağına sahipti
- C) Farklı dillerde basılan gazete ve dergi bulunmaktaydı
- D) Türklerle birlikte Yahudi, Ermeni, Rum, Sırp ve Bulgarlar yaşamaktaydı

İstiklal Mahkemeleri, T.B.M.M.'ye karşı çıkan ayaklanmaların sorumlularını cezalandırmak için kurulmuş olağanüstü mahkemelerdi.

6) Buna göre, sözü edilen mahkemelerin hükmü, aşağıdaki durumlardan hangisine uygulanabilir?

- A) Çerkez Ethem isyanını çıkaranlara
- B) Mecliste farklı düşüncelerdeki gruplara
- C) Misakımillî oylamasında hayır oyu kullanan vekillere
- D) İtilaf devletleri temsilcilerine

Hıyaneti Vataniye Kanunu'nun

“Olağanüstü ve aceleyi gerektiren durumlarda zanlının yakalandığı yerdeki ceza mahkemesi de yargılama yapmaya ve karar vermeye yetkilidir.”

7) Bu maddenin gerekçesi, aşağıdakilerden hangisi olabilir?

- A) Tarafsız bir yargı meydana getirmek.
- B) Suçluları halka teslim etmek.
- C) Yargıyı hızlandırmak.
- D) Cezalandırmayı meclis denetimine almak.

M.Kemal'in milliyetçilik düşüncelerinin olduğu şehirdir. M. Kemal bu şehirde okurken Namık Kemal, M. Emin Yurdakul, Ziya Gökalp gibi yazarların fikirlerinden etkilendi. Ayrıca bu şehirde okurken Tarih, Edebiyat ve Hitabete ilgi duymaya başladı.

8) Yukarıda hakkında bilgiler verilen kent hangi şıkta doğru olarak verilmiştir?

- A) Sofya
- B) Selanik
- C) İstanbul
- D) Manastır

Mondros Ateşkes Antlaşması'na göre:

-İtilaf devletleri güvenliklerini tehdit edecek herhangi bir durum karşısında istedikleri stratejik bölgeyi işgal edecektir.

- Vilayet-i Sitte diye bilinen altı ilde karışıklık çıkarsa itilaf devletleri buraları işgal edecektir

- Telsiz, telgraf ve kabloların denetimi, İtilaf Devletleri'ne geçecektir

9) Mondros Ateşkes Antlaşması'nın verilen maddelerinde, aşağıdakilerden hangisiyle ilgili bir karar yoktur?

- A) Anadolu'yu işgal için hukuki zemin oluşturma
- B) Doğuda bir Ermeni Devleti kurma
- C) Ülkeyi savunmadan yoksun bırakma
- D) Ulusal bilinçlenmeyi ve örgütlemeyi engelleme

İstanbul Hükümeti, Sivas Kongresi'nin toplanmasını engellemeye çalışsa da başarılı olamamıştır. Sivas Kongresi'nde Temsil Heyeti tüm yurdu kapsar hale gelmiş ve Temsil Heyeti aldığı bir kararlar İstanbul Hükümeti ile olan tüm haberleşmeyi kesmiş ve onların aldığı hiçbir kararı kabul etmemiştir. İstanbul Hükümeti, bu gelişmeler üzerine İtilaf Devletleri'nin baskılarına daha fazla dayanamamış ve istifa etmiştir. Böylece İstanbul Hükümetine karşı ilk siyasi başarı kazanılmıştır.

10)Temsil Heyeti'nin İstanbul Hükümeti ile olan ilişkilerini koparmasının nedenleri arasında aşağıdakilerden hangisi gösterilemez?

- A) Mustafa Kemal ve arkadaşları hakkında yakalama kararı çıkarması
- B) Milli mücadeleyi kendi eliyle başlatmak istemesi
- C) Sivas Kongresi'nin toplanmasını engellemeye çalışması
- D) Milli mücadeleyi yok etmeye çalışması

1. durum: Mondros Ateşkes Antlaşması'ndan sonra yurdumuzun işgaline İstanbul Hükümeti'nin sessiz kalması üzerine halk protesto mitingleriyle, direniş örgütleriyle mücadele etmiştir.

2.durum: 15 Temmuz 2016 Cuma gecesi yaşanan darbe girişimine karşı Cumhurbaşkanımızın çağrısı üzerine halkımız meydanlara inerek demokrasiye sahip çıkmış ve darbe girişimini etkisiz kılmıştır.

11)Hüseyin Celal Yardımcı Kurtuluş Ortaokulu Sosyal Bilgiler Öğretmeni, Erkan Öğretmen'in yukarıda verdiği her iki duruma bakarak Türk Milletinin hangi değere sahip olduğu söylenebilir?

- A) Tekalif-i Milliye kararlarına bağlılığa
- B) Halifelik makamı kararlarına
- C) Misak-ı Milli kararlarına
- D) Bağımsız yaşama ve ulusal iradeye sahip çıkma fikrine.

28 Ocak 1920'de kabul edilen Misakı Milli kararları arasında "**Milli ve ekonomik gelişmemizi engelleyen siyasi, adli ve mali sınırlamalar kaldırılacaktır.**"

İfadesi yer almaktadır.

12)Bu önemli karar ile aşağıdakilerden hangisinin kaldırılması amaçlanmaktadır?

- A) Halifeliğin
- B) Duyun-u Umumiye'nin
- C) Saltanatın
- D) Kapitülasyonların

13)Amasya Genelgesi milli mücadele hareketinin planı niteliğindedir. M. Kemal bu genelgeyi hazırlarken aynı zamanda Ali Fuat Cebesoy, Kazım Karabekir, Refet Bele, Cemal Paşa gibi önemli komutanların da onayını almıştır. M. Kemal'in bu şekilde davranmasının amacı aşağıdaki seçeneklerin hangisinde verilmiştir?

- A) Sorumluluk almaktan çekinmesi
- B) Bu arkadaşlarını çok sevmesi
- C) İstanbul hükümetinin tepkisinden korkması
- D) Genelgenin halk üzerinde etki bırakmasını istemesi

Sivas Kongresi'nin bazı maddeleri:

- 1) Tüm yaralı cemiyetler birleştirilecek.
- 2) Manda ve himaye kesinlikle reddedilecek.
- 3) Erzurum Kongresi kararları aynen kabul edilecek.

14) Yukarıdaki maddelerden yola çıkarak aşağıdaki yorumlardan hangisi yapılamaz?

- A) Ulusal iradeye önem verilmiştir.
- B) Milli mücadelede güç birliğine önem verilmiştir.
- C) Tam bağımsızlık amaçlanmıştır.
- D) Padişahın güveninin kazanılması amaçlanmıştır.

Mustafa Kemal'in doğup büyüdüğü Selanik'te Türkler, Ermeniler, Yahudiler, Sırp ve Rumlar hep beraber huzur içinde yaşıyorlardı.

15) Bu bilgiden yola çıkarak Selanik'le ilgili olarak aşağıdakilerden hangisi söylenemez?

- A) Kültür birliği sağlanmıştır.
- B) Gelenek ve görenekler birbirinden farklıdır.
- C) Farklı inançlara karşı hoşgörü hakimdir.
- D) Farklı diller bir arada konuşulmaktadır.

Mondros Ateşkes Antlaşması'nın 24. maddesine göre;

"İtilaf Devletleri doğudaki altı ilde ((Sivas, Erzurum, Van, Bitlis, Elazığ, Diyarbakır) bir karışıklık çıkarsa buraları işgal edecek."

16) İtilaf Devletleri'nin Mondros Ateşkes Antlaşması'na yukarıdaki maddeyi koymasının amacı Doğu Anadolu'da hangi millete ait bir devlet kurmak istediğinin göstergesidir?

- A) Pontus Rumları
- B) Ermeniler
- C) Yahudiler
- D) Yunanlılar

- Pontus Cemiyeti
- Mavri Mira Cemiyeti
- Etnik-i Eterya Cemiyeti

Verilen cemiyetlerin ortak özellikleri arasında;

1. Ermeniler tarafından kurulmaları
2. Rumlar tarafından kurulmaları
3. Zararlı Cemiyetler arasında yer almaları
4. İtilaf Devletlerinin işgallerine karşı tepki olarak kurulmaları

17) hangileri bulunmaktadır?

- A) 1 ve 2
- B) 1 ve 3
- C) 2 ve 3
- D) 2 ve 4

18. Amasya Genelgesi'nin ;

1. Milletin bağımsızlığını yine milletin azim ve kararı kurtaracaktır.
2. Vatanın bütünlüğü milletin bağımsızlığı tehlikededir.
3. İstanbul hükümeti aldığı sorumluluğun gereğini yerine getirememektedir. Bu durum milletimizi yok olmuş gösteriyor.

maddelerinden hangisi/hangileri Kurtuluş Savaşı'nın yöntemi durumundadır?

- A) 1 ve 2
- B) Yalnız 3
- C) 2 ve 3
- D) Yalnız 1

I. Dünya Savaşı'nın;

- I- Almanya ile İngiltere'nin gelişen sanayileri için aralarında giriştikleri hammadde ve pazar rekabeti
- II- Rusya'nın sıcak denizlere inmek için Panslavizm politikasını gütmesi
- III- Devletlerarası hızla silahlanma yarışına başlaması

19)Gibi nedenlerine bakarak aşağıdaki yorumlardan hangisi yapılamaz?

- A) Rusya ekonomisi için Akdeniz'e inmeyi zorunlu görmektedir.
- B) İngiltere gelişmiş bir sanayiye sahip olduğundan yeni sömürge alanları aramaktadır.
- C) Devletlerarasındaki silahlanmanın sebebi sömürgecilik yarışıdır.
- D) İngiltere, Almanya'nın sömürgelerine giden yolu kesmeye çalışmaktadır.

Mustafa Kemal Çanakkale Cephesi'ndeki başarılarının ardından 1916'da Kafkas Cephesi'ne atanmış ve bu görevi sırasında; personel eksiğinin tamamlanması, ordunun yiyecek ve silah ihtiyacının acilen karşılanması, haberleşme ve strateji sorunlarını çözerek bu cephede Muş ve Bitlis'i Ruslardan kurtarmayı başarmıştır.

20)Mustafa Kemal Paşa'yı yukarıdaki tedbirleri almaya iten nedenler arasında;

- 1.Ordunun ihtiyaçlarını ve teknik problemlerini çözmeye konusundaki kararlılığı
- 2.Rus Ordusu'nu geriletme ve bazı bölgeleri kurtarma
- 3.Bireysel davranıp kendini kanıtlamaya çalışması

amaçlarının hangisi yada hangileri gösterilebilir?

- A) Yalnız 2
- B) 1 ve 2
- C) Yalnız 3
- D) 1 ve 3

İNGİLİZCE TESTİ

1. One of your friends invites you to a party but you have different plans. What do you say to refuse her invitation?

- A) Enjoy yourself.
- B) I am sorry, I am going to cinema that night.
- C) It sounds really good.
- D) I don't want to refuse you.

2. Barney :Would you like to eat out together?

Robin :

Barney : Why do you always refuse me?

Robin : I'm sorry but I am really busy nowadays.

Boşluğa uygun düşecek ifadeyi seçiniz.

- A. Let's go to a cafe then.
- B. I'd love to.
- C. I have lots of work to do. Maybe later.
- D. Forgive me. I am not feeling well.

3. Ali :..... joining to a hiking organisation? It is really exciting.

Deniz :I don't really enjoy walking.

Boşluğa uygun düşecek ifadeyi seçiniz.

- A. Would you like to
- B. How about
- C. Let's
- D. Why don't we

4. True friends.....

Boşluğa aşağıdaki ifadelerden hangisi getirilemez.

- A. Never lies each other
- B. Helps whenever you need
- C. Are like your brothers and sisters
- D. Never back you up



5- 6. Soruları paragrafa göre cevaplayınız

Dear Vera,

Rose and I are organising a slumber party on 5th of December at 6 p.m. It's going to be in my house. Why don't you join us? We will have fun together.

Don't forget your pyjamas.

Take care of yourself.

5. Who are the sender and receiver?

- A. Sender: Rose / Receiver: Sarah
- B. Sender: Sarah / Receiver: Vera
- C. Sender: Vera / Receiver: Sarah
- D. Sender: Sarah / Receiver: Rose

6. Where is the party going to be?

- A. in Sarah's house.
- B. a slumber party.
- C. on 5th of December.
- D. in a cafe.



Doğubayazıt Yatılı Bölge Ortaokulu Test Ekibi Çalışmasıdır.



7. Pınar : How often do you work out in gym?

Kerim : Everyday.

Pınar : Oh! It means..... . It's a lot.

- A. seven times a week
- B. five times a month
- C. twice in weekends
- D. seven times a day

8. Jane : ?
Sam : Sure, I'm the best in my school. I play everyday.

- A. How often do you play tennis
- B. Do you like watching soccer games
- C. Are you good at basketball
- D. How long did you play yesterday

9. Sinan : do you visit your grandparents?

Kenan : Not very frequently. They live out of the city.

- A. When
- B. Why
- C. How
- D. How often

10. Jack : There is a great romance in movie theatre. Would you like to see it tonight?

Sue : Sounds great!
..... ?

Jack : It starts at 8 p.m. I will pick you up an hour earlier.

Sue : Deal.

- A. You should pick me up
- B. What time should we go
- C. Unfortunately, I hate romances.
- D. Where is the cinema

11. I always go cycling
Weekends but winter it is hard to ride because the weather is cold.

Boşluğa sırasıyla gelecek uygun ifadeleri seçiniz.

- A. at / on
- B. on / at
- C. in / on
- D. on / in

12. My name is Julia. My favorite activity is jogging because I really like walking alone. I like doing sports but I'm not fond of cycling.

According to the text which one is correct?

- A. Julia is into bike racing.
- B. She prefers cycling to jogging.
- C. Julia enjoys climbing.
- D. She prefers walking to riding bicycle.

13. **Lance** : I don't know how to ride a bicycle.
Edward : It's easy. You move with and stop with

- A. brake / chain
- B. pedals / brake
- C. tire / mudguard
- D. pedals / seat

14. **Gül** :

Ayşe : Of course. I am really good at cooking.

- A. What's in it
- B. How do you cook fried chicken
- C. Do you know how to make a taco
- D. What is your favorite snack

15. **Okan** : Why don't you eat hamburger?

Muhammet : Because is bad for your health.

- A. vegetable
- B. fruits
- C. healthy food
- D. fast food

First dice the tomatoes

__1__ heat butter in a frying pan

After that mix two eggs in a bowl.

__2__ mix all the ingredients and fry them in the pan.

16. 1. Boşluğa gelebilecek uygun ifadeyi seçin

- A. second
- B. then
- C. finally
- D. next

17. 2. Boşluğa gelebilecek uygun ifadeyi seçin

- A. serve it hot
- B. before
- C. finally
- D. after

18.- 19.ve 20. Soruları paragrafa göre yapınız.

Hi. My name is Wilco. I am a Tv programmer. I visit different cities and learn about their traditional dishes and then I cook the most popular local dish on TV. Ali Nazik kebab is one of them. It is popular in Gaziantep. The ingredients are eggplant, yogurt, garlic , meat and tomatoes.

18. What's in Ali Nazik kebab?

- A. onion-meat-yogurt
- B. garlic-meat-eggplant
- C. tomatoes-egg-garlic
- D. potatoes-egg-onion

19. Which one is true?

- A. Wilco is a chef in Gaziantep
- B. Ali Nazik Kebab is a traditional dish in Gaziantep
- C. Wilco visits only Gaziantep.
- D. There are seven ingredients for his Kebab.

20. Which one is false?

- A. Ali Nazik Kebab is only dish in Gaziantep.
- B. Wilco is a TV programmer.
- C. You need garlic to cook Ali Nazik Kebab.
- D. Ali Nazik Kebab is the most popular food in Gaziantep.